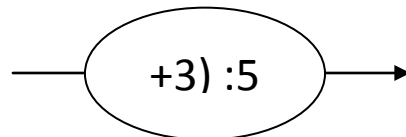
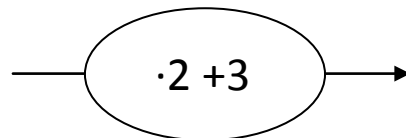
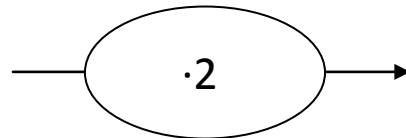
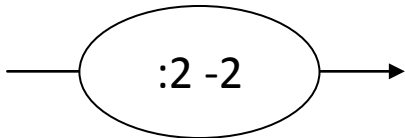
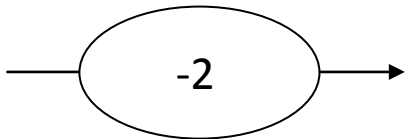
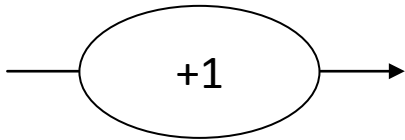


# T27 Nr. 4 Operatorenkarten

---

Diese Operatoren entsprechen den Aussagen a-f.

Finde heraus welcher Operator zu welcher Teilaufgabe gehört. Dies hilft dir den Term aufzuschreiben.



# T27 Nr. 4 Operatorenkarten

---

Diese Operatoren entsprechen den Aussagen a-f.

Finde heraus welcher Operator zu welcher Teilaufgabe gehört. Dies hilft dir den Term aufzuschreiben.

